

【1】 2021年7月に第44回世界遺産委員会がオンライン・ミーティングの形式で開催され、34件の世界遺産登録と1件の登録抹消がありました。次の表はその一部を地域ごとにまとめたものです。あとの問いに答えなさい。

推薦国	推薦名
① <u>イギリス</u>	ウェールズ北西部のスレート関連景観
② <u>イタリア</u>	ボローニャのボルチコ群
③ <u>ドイツ</u>	シュパイアー、ヴォルムス、マインツのユダヤ人共同体遺跡群
④ <u>フランス</u>	リヴィエラ観光の都ニース
ロシア	オネガ湖と白海の岩絵群
⑤ <u>スロベニア</u>	リュブリャナのヨジェ・プレチニック作品群－人を中心とした都市計画
メキシコ	トラスカラの⑥ <u>聖母被昇天大聖堂</u> とフランシスコ会修道院の建造物群
⑦ <u>チリ</u>	アリカ・イ・パリナコータ州のチンチョーロ文化の集落と人工ミイラ製法
ガボン	イヴィンド国立公園
コートジボワール	コートジボワール北部のスーダン様式モスク群
日本	北海道・北東北の縄文遺跡群
⑧ <u>インド</u>	ドーラピーラ：ハラッパー文化の都市
イラン	フーラーマーン／ウラマナトの文化的景観

問1 表中の下線部①について、経線の基準となる本初子午線が通過するイギリスのロンドンが11月13日の午前10時のとき、日本は何月何日の何時になりますか。次のア～エから適当なものを1つ選び、記号で答えなさい。

ア 11月12日午前1時

イ 11月12日午後7時

ウ 11月13日午前1時

エ 11月13日午後7時

問2 表中の下線部⑥について、イタリアでは気温の上がる夏の乾燥に強い作物を生産する地中海式農業がさかんです。次に示すア～エはオリーブ、米、大豆、コーヒーの生産上位国についてまとめたものです。オリーブに該当するものを、次のア～エから1つ選び、記号で答えなさい。

ア

国名	千トン (%)
ブラジル	3,557 (34.5)
ベトナム	1,616 (15.7)
インドネシア	722 (7.0)
コロンビア	721 (7.0)
ホンジュラス	481 (4.7)
世界計	10,303

イ

国名	万トン (%)
アメリカ	12,366 (35.5)
ブラジル	11,789 (33.8)
アルゼンチン	3,779 (10.8)
中国	1,419 (4.1)
インド	1,379 (4.0)
世界計	34,871

ウ

国名	万トン (%)
中国	21,213 (27.1)
インド	17,258 (22.1)
インドネシア	8,304 (10.6)
バングラデシュ	5,642 (7.2)
ベトナム	4,405 (5.6)
世界計	78,200

エ

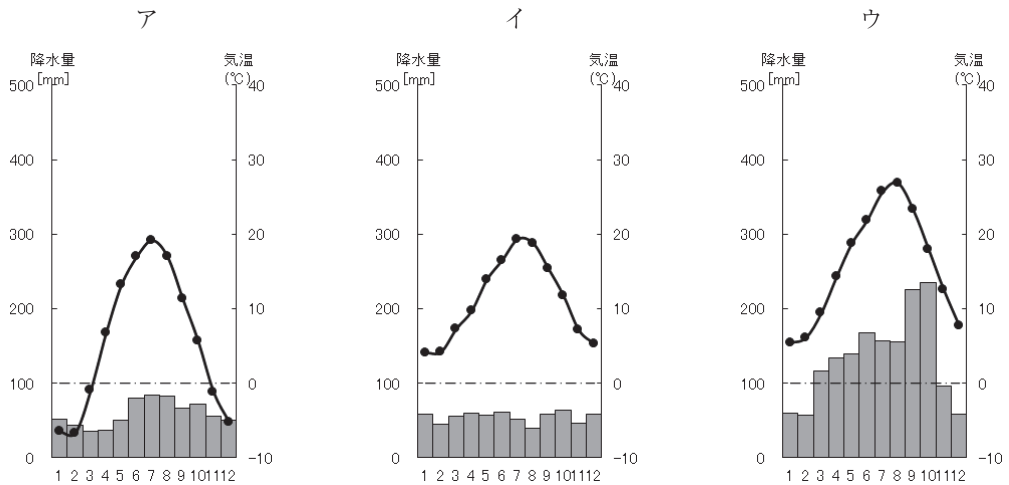
国名	千トン (%)
スペイン	9,820 (46.6)
イタリア	1,877 (8.9)
モロッコ	1,561 (7.4)
トルコ	1,500 (7.1)
ギリシャ	1,079 (5.1)
世界計	21,066

(統計年次は2018年。二宮書店「データブック オブ・ザ・ワールド2021」により作成。)

問3 表中の下線部⑦について、ドイツを含めたヨーロッパの国々は経済的・政治的な結びつきを強めるためにEU（ヨーロッパ連合）に加盟している国が多いです。EUについて説明した次のア～エの文のうち、あやまって述べているものを1つ選び、記号で答えなさい。

- ア 多くの加盟国間では、国境の検問所でのパスポート検査がなく、自由に通過できる。
- イ すべての加盟国では、共通通貨であるユーロが導入されている。
- ウ 1990年代から加盟国が拡大し、現在では加盟国数は25をこえている。
- エ 加盟国間の経済格差が問題となっており、所得が低いなどの問題を抱える国には補助金が支給されている。

問4 表中の下線部㉔について、次のア～ウの雨温図はフランスの首都パリ、ロシアの首都モスクワ、日本の首都東京のいずれかを示しています。パリの雨温図として適当なものを、次のア～ウから1つ選び、記号で答えなさい。



(二宮書店「データブック オブ・ザ・ワールド2021」により作成)

問5 表中の下線部㉕について、この国では石灰岩によって形成されたカルスト地形の語源となっている地域があります。日本でカルスト地形がみられる場所として適当なものを、次のア～エから1つ選び、記号で答えなさい。

ア 山口県秋吉台 イ 熊本県阿蘇山 ウ 山梨県甲府盆地 エ 福井県若狭湾

問6 表中の下線部㉖について、「聖母の被昇天」はカトリック教会の教義であり、メキシコでは国民の約80%がカトリックを信仰しています。メキシコと同様にカトリックの信者が国民の70%以上を占める国としてあやまっているものを、次のア～エから1つ選び、記号で答えなさい。

ア フィリピン イ ブラジル ウ マレーシア エ スペイン

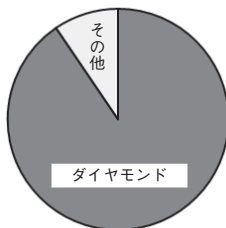
問7 表中の下線部㉔について、次の表は隣国のペルーとともにチリでの産出量が多い、ある鉱産資源の産出上位国とその産出量を示したものです。この鉱産資源として適当なものを、あとのア～エから1つ選び、記号で答えなさい。

国名	万トン (%)
チリ	576.4 (30.2)
中国	171.0 (9.0)
ペルー	170.1 (8.9)
アメリカ	138.0 (7.2)
コンゴ民主	102.0 (5.3)
世界計	1,910.0

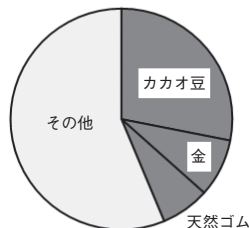
(統計年次は2015年。二宮書店「データブック オブ・ザ・ワールド2021」により作成。)

ア 鉄鉱石 イ 石炭 ウ 石油 エ 銅鉱

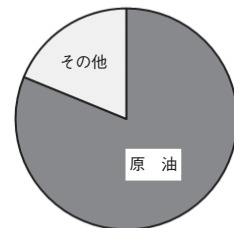
問8 表中のガボンとコートジボワールはいずれもアフリカに位置する国です。次の資料はアフリカのいくつかの国のおもな輸出品目を示したものです。この資料からも分かるように、アフリカの国の多くでは輸出品の多くが特定のプランテーション作物や鉱産資源となっており、不作などによる価格の変動に大きく打撃を受ける経済となっています。このような経済を何といいますか。カタカナで答えなさい。



ボツワナ
(52億ドル)



コートジボワール
(118億ドル)



ガボン
(51億ドル)

* 統計年次はボツワナが2019年、コートジボワールが2018年、ガボンが2015年。
二宮書店「データブック オブ・ザ・ワールド2021」により作成。

問9 表中の下線部⑩について、インドの急速な成長を支えているのは、英語や数学の教育水準の高さで、その教育によって育った技術者が海外でさらに情報技術を身につけて帰国し、バンガロールなどを中心とした（ ）産業の成長に重要な役割を果たしてきました。（ ）にあてはまる語句を、次のア～エから1つ選び、記号で答えなさい。

ア ICT イ AU ウ OPEC エ IOC

問10 世界遺産は、1972年に採択された「世界の文化遺産及び自然遺産の保護に関する条約」に基づいてリストに登録された、文化財、景観、自然など、人類が共有すべき「顕著な普遍的価値」を持つ物件のことで、移動が不可能な不動産が対象となっています。世界遺産について扱っている国連の専門機関「国連教育科学文化機関」の略称を、次のア～エから1つ選び、記号で答えなさい。

ア UNICEF イ IMF ウ UNESCO エ UNCTAD

問11 次の〔資料〕は、日本国内で2件以上の世界遺産をもつ都道府県についてまとめたものです。あとの①～④の文は、この〔資料〕の中から10の都道府県について説明したものです。それぞれの文が説明している都道府県を1つずつ選び、都道府県名を答えなさい。

〔資料〕世界遺産をもつ都道府県
(3つ) 岩手県・奈良県・鹿児島県
(2つ) 北海道・青森県・秋田県・東京都・静岡県・広島県・福岡県・長崎県・熊本県・沖縄県

- ① 日本で最初に世界遺産に登録された法隆寺がこの県にあります。県北部は隣接する大都市へのアクセスが便利で、ベッドタウンとなっています。
- ② 日本で唯一の「負の世界遺産」がこの県にあります。県北部は山がちな地形で、近年土砂災害が発生し、大きな被害を出しました。中国・四国地方の政治・経済の中心となっています。
- ③ ブナの原生林で有名な白神山地があります。りんごの生産量が日本一の県で、青函トンネルによって北海道とつながっています。
- ④ 日本初の本格的な製鉄所である八幡製鉄所が建設され、九州地方で最大の人口をほこる九州の中心です。いちごの生産がさかんで、栃木県に次いで第2位の生産量をほこります。

- ⑤ 広大な面積を利用して、大規模な農業がおこなわれています。もともと住んでいた先住民族であるアイヌの人たちの言葉が、現在でも地名として多く残っています。
- ⑥ 地理的に大陸と近く、昔から港町として栄えた歴史をもちます。そのため、今でも佐世保など、造船業がさかんな都市がみられます。びわの生産がさかんな県としても有名です。
- ⑦ 桜島の大噴火の影響で火山灰が積もってできたシラス台地では、茶やさつまいもなどの生産がさかんです。また、豚の飼育頭数も日本一です。
- ⑧ 世界自然遺産の富士山があります。東海工業地域を中心とした工業ではオートバイや自動車の生産、ピアノなどの楽器の製造、富士山の山麓に湧き出る水資源を利用した製紙・パルプ工業もさかんです。
- ⑨ 日本の首都で政治・経済・文化の中心です。1990年代後半から再開発が進み、オフィスビルや高層マンションの建設が進んでいます。
- ⑩ 高度経済成長期の1950年代～60年代にかけて、大量のメチル水銀による水質汚濁で水俣病が発生しました。現在では、さまざまな環境政策に取り組み「エコタウン」として環境保全活動を継続しています。

【2】 次の表について、あとの問いに答えなさい。

天 皇	在位期間
㉑ <u>推古天皇</u>	592年～ 628年
㉒ <u>天智天皇</u>	668年～ 671年
㉓ <u>聖武天皇</u>	724年～ 749年
㉔ <u>桓武天皇</u>	781年～ 806年
㉕ <u>後鳥羽天皇</u>	1183年～1198年
御陽成天皇	㉖ <u>1586年～1611年</u>

(宮内庁ホームページより作成)

問1 表中の下線部㉑について、推古天皇の摂政として活躍した人物とその人物が定めた制度の組み合わせとして正しいものを、次のア～エから1つ選び、記号で答えなさい。

- ア 小野妹子－冠位十二階 イ 小野妹子－租・調・庸
ウ 聖徳太子－冠位十二階 エ 聖徳太子－租・調・庸

問2 表中の下線部㉖について、次の問いに答えなさい。

(1) 663年に白村江の戦いが朝鮮半島でおこりました。このとき、日本が支援をおこなった国として適当なものを、次のア～エから1つ選び、記号で答えなさい。

- ア 百済 イ 新羅 ウ 高句麗 エ 高麗

(2) 天智天皇の死後、弟である大海人皇子と息子である大友皇子との間で起きた、跡継ぎをめぐる争いを、次のア～エから1つ選び、記号で答えなさい。

- ア 応仁の乱 イ 保元の乱 ウ 島原の乱 エ 壬申の乱

問3 表中の下線部㉓聖武天皇が在位した奈良時代について、次の問いに答えなさい。

(1) 奈良時代に使われていた貨幣として適当なものを、次のア～エから1つ選び、記号で答えなさい。

- ア 富本銭 イ 和同開珎 ウ 寛永通宝 エ 永楽通宝

- (2) 743年に出された、新しく開墾した土地は税を納めれば、いつまでも私有してもよいとする政策を何といますか。次のア～エから1つ選び、記号で答えなさい。

ア 班田収授法 イ 墾田永年私財法 ウ 上(げ)米の制 エ 楽市・楽座

- 問4 表中の下線部㉔の天皇と最も関係の深いものを、次のア～エから1つ選び、記号で答えなさい。

ア 銀閣 イ 東大寺 ウ 法隆寺 エ 金閣

- 問5 表中の下線部㉕桓武天皇がおもに在位した平安時代について、次の問いに答えなさい。

- (1) 次の文章は平安時代の仏教についてまとめたものです。【 ① 】・【 ② 】にあてはまる語句をそれぞれ答えなさい。

「最澄は比叡山（滋賀県・京都府）で修行をしたのちに唐にわたり、帰国後に【 ① 】を開いて、延暦寺を建てた。また、空海は唐で密教を深く学んだのち、帰国して高野山（和歌山県）で【 ② 】を開いて、金剛峯寺を建てた。」

- (2) 平安時代のできごとについて述べた文として正しいものを、次のア～エから1つ選び、記号で答えなさい。

ア 桓武天皇の指示で、『新古今和歌集』が^{へんさん}編纂された。
イ 藤原氏の策略により、菅原道真が大宰府（福岡県）に^{させん}左遷された。
ウ 田沼意次が老中の職に就き、朝廷の財政の再建を試みた。
エ 北条泰時が武士を統制するために御成敗式目を制定した。

- 問6 表中の下線部㉖について、この天皇はのちに上皇となり、当時政治の実権を握っていた鎌倉幕府の力が弱体化したことをきっかけに、幕府から政治の実権を取り戻そうとしました。この出来事を何とつか答えなさい。

問7 表中の下線部④について、この在位期間中におこなわれた、次の①～③のできごとを時代の古い順に並びかえたとき、その順番として正しいものを、あとのア～エから1つ選び、記号で答えなさい。

- ① 小田原征伐をおこない、北条氏を滅ぼした。
- ② 約15万の大軍を率いて朝鮮半島に軍を進める文禄の役をおこした。
- ③ バテレン追放令を出して、キリスト教の布教を禁止した。

ア ①-②-③

イ ②-①-③

ウ ①-③-②

エ ③-①-②

【3】 次の文章を読んで、あとの問いに答えなさい。

15代将軍徳川慶喜は、1867年10月に天皇へ政治の実権の返上を申し出る【①】をおこなった。しかし、②薩摩藩をはじめとする新政府側は、同年12月に【②】を出して天皇中心の政治を取り戻そうとした。これに反発した旧幕府軍と新政府軍との間で、翌年1868年1月に③戊辰戦争が起こり、約1年半におよぶ内戦が始まった。

新政府は、様々な分野で改革を推し進めた。この近代国家の成立を目指しておこなわれた一連の政治・経済・社会の変革を【③】という。

まず、新政府は1868年に明治天皇が神々に誓う形で、【④】を出し、政府の基本方針を示した。また、全国を直接支配する中央集権国家をつくる必要があったことから諸藩の藩主に土地と人民を政府に返還させる【⑤】をおこなったが、あまり効果が見られなかったため、藩の廃止に踏み切る【⑥】をおこなった。さらに、江戸時代におこなわれていた身分制度を廃止し、皇族以外のすべての人々は平等であるとする【⑦】がおこなわれた。

問1 文章中の【①】～【⑦】にあてはまる語句を、次のア～キから1つずつ選び、記号で答えなさい。


- | | | | |
|-----------|-----------|--------|--------|
| ア 大政奉還 | イ 五箇条の御誓文 | ウ 四民平等 | エ 版籍奉還 |
| オ 王政復古の号令 | カ 廃藩置県 | キ 明治維新 | |

問2 文章中の下線部②について、薩摩藩は現在の何県ですか。次のア～エから1つ選び、記号で答えなさい。

- | | | | |
|--------|-------|-------|--------|
| ア 和歌山県 | イ 山口県 | ウ 高知県 | エ 鹿児島県 |
|--------|-------|-------|--------|

問3 文章中の下線部③について、右の写真は、戊辰戦争の最後の戦いがおこなわれた場所を示しています。この戦いとして正しいものを、次のア～エから1つ選び、記号で答えなさい。

- | | |
|------------|----------|
| ア 鳥羽・伏見の戦い | イ 五稜郭の戦い |
| ウ 壇ノ浦の戦い | エ 長篠の戦い |



Google Earth により作成

【4】 次の文を読み、その内容が正しければ○、正しくなければ × を答えなさい。

問1 日本国憲法の3つの基本原理は、天皇主権・基本的人権の尊重・平和主義である。

問2 警察が犯人を逮捕する場合は、必ず裁判官が発行する令状が必要となる。

問3 刑事裁判をおこなう時、どのような行為が罪にあたり、処罰されるのかについて、あらかじめ決めておく罪刑法定主義に従って裁判がおこなわれる。

問4 衆議院解散後の総選挙の日から、30日以内に召集される国会を特別国会という。

問5 労働者は雇い主よりも弱い立場にあるため、日本国憲法では団結権・団体交渉権・団体行動権の3つの労働基本権を認めている。

問6 家計の支出のうち、食料品や衣服、娯楽、教育や医療など生活に欠かすことのできない支出をまとめて消費支出という。

問7 近年、日本の労働時間はしだいに短くなり、週休2日制を採用する企業が一般的になった。そのため、日本の年間労働時間は世界で最も短くなっている。

問8 市場経済のもとでは、需要量が供給量を上回ると一般的に価格は上昇する。

問9 電気・ガス・水道などのサービスは国民生活に与える影響が大きいため、その価格（料金）はすべて国が決定することになっている。

問10 日本銀行の役割のひとつに、日本銀行券を発行する発券銀行とよばれる役割がある。